



آپ کہاں چھپے ہیں؟



آئیے کریں

1. تصویر کو دیکھیے اور مندرجہ ذیل کا جواب دیجیے:

a. بچے کون سا کھیل کھیل رہے ہیں؟

b. اوپر سے کون دیکھ رہا ہے؟

c. منظر 1 میں، اگر رانی جھونپڑی کی طرف منہ کرے گی تو کیا وہ دیکھ پائے گی کہ جھونپڑی کے قریب کون کون چھپے

ہوئے ہیں؟

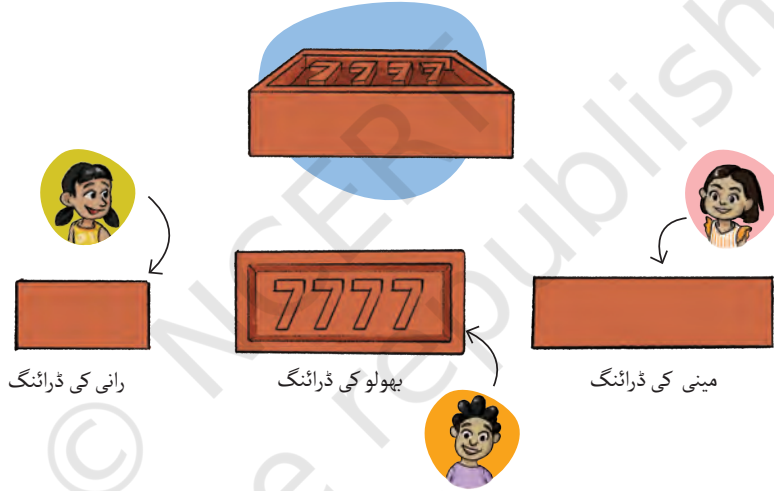
گفتگو کیجیے۔

منظر 4 میں، کیا مینی تمام بچوں کو کھینچتے ہوئے دیکھ سکتی ہے؟ گفتگو کیجیے۔
بھولو کو یہ دیکھ کر بڑی حیرانی ہوئی کہ اوپر سے یہ درخت کیسا نظر آتا ہے۔



جگت نے سامنے سے درخت کی تصویر کھینچی۔

2. مینی، بھولو اور رانی ایک ہی اینٹ کی ڈرائنگ بناتے ہیں۔ ان کی ایک ہی اینٹ کی ڈرائنگ الگ الگ کیوں ہیں؟ گفتگو کیجیے۔



رانی کی ڈرائنگ

بھولو کی ڈرائنگ

مینی کی ڈرائنگ

کس کی ڈرائنگ میں مندرجہ ذیل مناظر دکھائے گئے ہیں؟

بچے کا نام	اینٹ کی ڈرائنگ کا منظر
	بالائی منظر
	سامنے کا منظر
	دائیں یا بائیں کا منظر

اساتذہ کے لیے ہدایت: بچے الگ الگ جوابات دے سکتے ہیں۔ ان کے ساتھ تصاویر میں موجود مناظر کی اقسام پر بھی گفتگو کیجیے۔ مثال کے طور پر،
بالائی منظر، دائیں یا بائیں کا منظر اور سامنے کا منظر۔

3. تصاویر کو دیکھیے اور اشیا کا نام لکھیے۔ یہ بھی لکھیے کہ شے کا کون سا منظر دیا گیا ہے۔



نام _____
منظر _____

نام _____
منظر _____


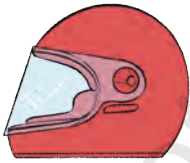
نام _____
منظر _____



نام _____
منظر _____

نام _____
منظر _____

نام _____
منظر _____

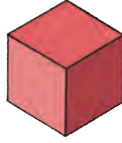
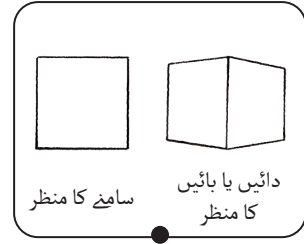
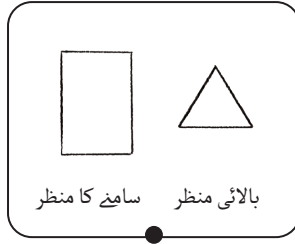
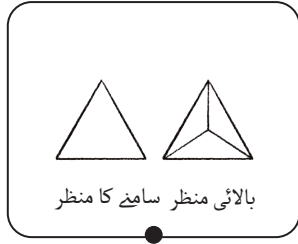


نام _____
منظر _____

نام _____
منظر _____

نام _____
منظر _____

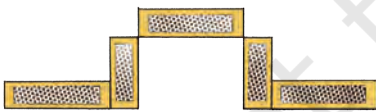
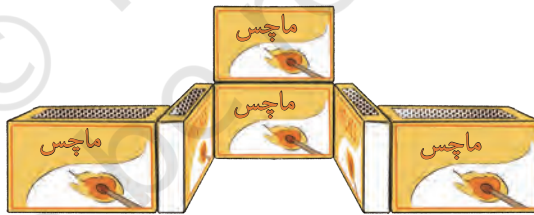
2. جگت اور رانی نے ایک ہی طرح کی اشیاء کی مختلف ڈرائنگ بنائی ہیں۔ اشیاء کے ساتھ مناظر کو ملائیے۔



اپنے ارد گرد دیکھیے! مختلف مناظر سے کرسیاں، میز، بعلی منظر، پیش منظر، بالائی منظر، پنسل، ربر، سالگرہ کی ٹوپی اور بوتل جیسی اشیاء کی ڈرائنگ بنانے کی کوشش کیجیے۔

ک ڈبیا نما عمارتیں

جگت اور مینی کھیل رہے ہیں۔ وہ خالی ماچس کی ڈبیوں کا استعمال کرتے ہوئے مختلف عمارتیں بنا رہے ہیں اور اپنی ڈرائنگ کو مختلف مناظر سے پیش کر رہے ہیں۔



اب، آپ بھی مختلف عمارتیں بنانے اور ان کے بالائی، بعلی اور پیش منظر کو کھینچنے کے لیے خالی ماچس کی ڈبیاں یا کوئی اور خالی باکس جمع کیجیے۔ آپ اپنے دوستوں کو اپنی ڈرائنگ کو صحیح عمارت کے ساتھ ملانے کے لیے کہہ کر چیلنج کر سکتے ہیں۔

کربلی نے جگت کو ڈھونڈ لیا

اگلے دن، پانچوں دوست خوش و خرم اسکول جاتے ہیں کیوں کہ آج سرگرمی کا دن ہے۔ جگت کی پالتو بلی اس کے پیچھے پیچھے اسکول چلی آتی ہے۔ بلی کھڑکی پر بیٹھ کر جگت کو ڈھونڈنے کی کوشش کرتی ہے۔



آئیے کریں

1. تصویر میں جگت کی پوزیشن پر نشان لگائیے۔
2. نیلے رنگ کے بیگ کی پوزیشن بیان کیجیے۔
3. آپ کو دوسری قطار کی درمیانی میز پر کیا دکھائی دیتا ہے؟
4. نوٹ بک کہاں رکھی ہوئی ہے — دوسری قطار میں پہلی ڈیسک پر یا تیسری قطار میں درمیانی ڈیسک پر؟
5. دوسری قطار کی تیسری میز پر سیب کی ایک تصویر بنائیے۔


ٹھیک ہے، یہ پہلی قطار اور پہلا کالم ہے۔

بھولو، اب آپ کو میرے اشاروں پر عمل کرتے ہوئے گرڈ میں اشیا کی ڈرائنگ بنانی ہوگی۔ نیچے بائیں کونے میں گیند کی ڈرائنگ بنائے۔



آئیے کھیلیں

بھولو کا گرڈ

↑
کالم 3

↑
کالم 2

↑
کالم 1

←
قطار 3

←
قطار 2

←
قطار 1

گرڈ کو بھرنے کے لیے رانی کے ذریعہ دیے گئے اشارے یہ ہیں:



- اوپری بائیں کونے میں ایک ربر۔
- اوپری دائیں کونے میں ایک پنسل۔
- دوسری قطار اور دوسرے کالم کے وسط میں ایک سیب۔
- تیسری قطار اور دوسرے کالم میں پانی کی بوتل۔

اساتذہ کے لیے ہدایت: بچوں کو کلاس میں گرڈ کا کھیل کھیلنے کا موقع فراہم کیجیے۔ وہ میز پر یا فرش پر گرڈ کی لائنیں کھینچ سکتے ہیں۔ وہ مختلف اشیا کو گرڈ کے مختلف مقامات پر رکھ سکتے ہیں۔

گرڈ کا کھیل - خزانے کی تلاش

اس کھیل میں ایک کھلاڑی کو گرڈ سے کسی شے کے بارے میں سوچنا ہوتا ہے اور دوسرے کھلاڑی کو اسے تلاش کرنے میں مدد کرنی ہوتی ہے۔

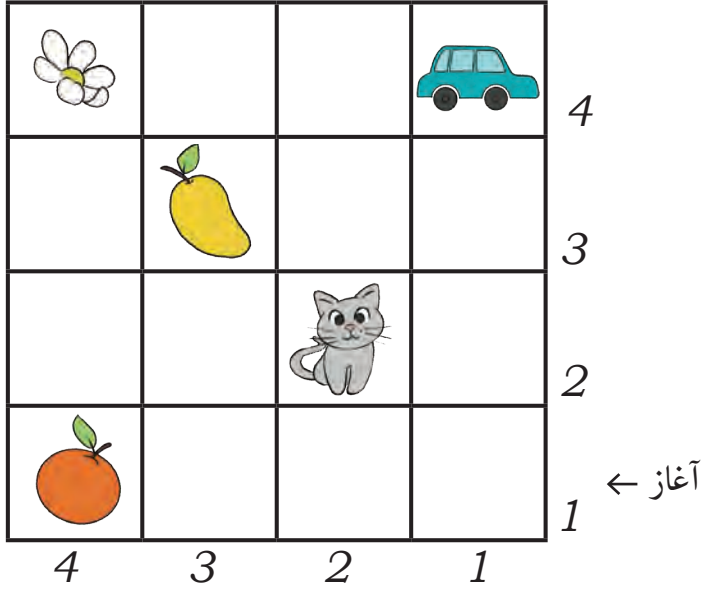
آئیے دیکھیں کہ جگت اور مینی کیسے کھیل رہے ہیں۔



جگت نے کس چیز کے بارے میں سوچا تھا؟

اساتذہ کے لیے ہدایت: کیسے کھیلیں۔ 4x4 گرڈ میں اشاریہ جاتی ہیں۔ پہلا کھلاڑی دوسرے کھلاڑی کو اشارے دے کر اس چیز تک پہنچنے میں مدد کرتا ہے جس کے بارے میں اس نے سوچا ہے۔ کھلاڑی اوپر، نیچے، بائیں یا دائیں حرکت کر سکتے ہیں۔ آڑی حرکت کی اجازت نہیں ہوتی۔ بچے اس کھیل کو جوڑے میں کھیل سکتے ہیں۔ طالب علم کو راستوں کے بارے میں لکھنے/ابت کرنے دیتے ہیں: انہیں اشارے/سوالات/اخالی جگہوں کو بھرنے والے الفاظ فراہم کیجیے، جیسے نقطہ آغاز سے، میں قدم بائیں/دائیں طرف بڑھا۔ پھر میں قدم اوپر/نیچے بڑھا، وغیرہ۔





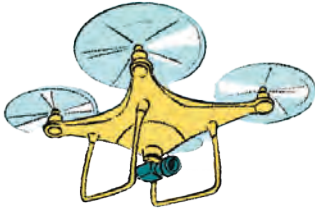
اپنے ساتھی کے ساتھ یہ کھیل کھیلیے۔

نقطہ آغاز سے پھول تک پہنچنے کے لیے راستوں پر آگے بڑھیے۔ ہر راستے کے لیے کتنے قدم بڑھانے کی ضرورت ہے؟

پھول تک پہنچنے کے لیے مختلف راستوں کو بولیے یا لکھیے۔

نقطہ آغاز سے، آپ اسی تعداد کے قدموں میں کہاں پہنچیں گے: آم تک یا سنترے تک؟

اسکول کے ارد گرد ڈرون

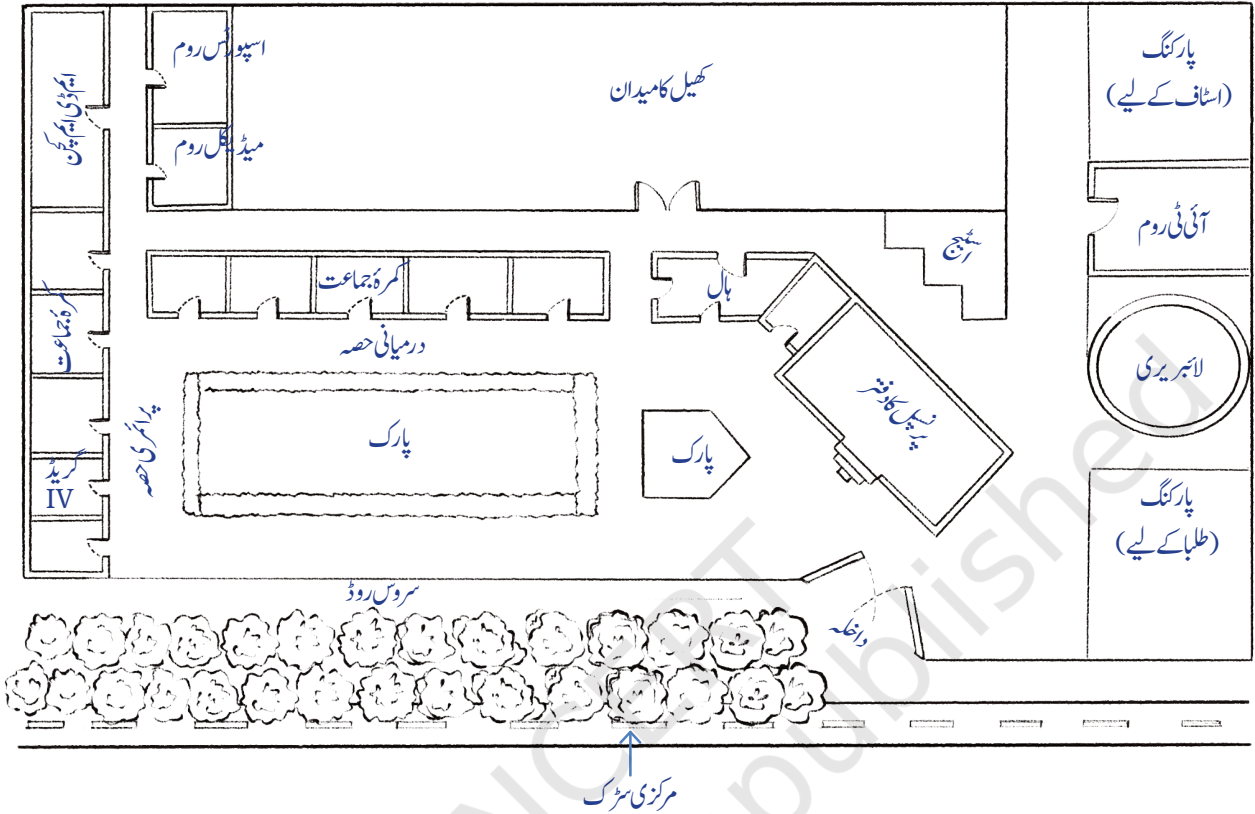


گیان کو ایک ڈرون ملا ہے جسے وہ اپنے دوستوں کو دکھاتا ہے۔ ڈرون پرواز کے دوران تصاویر لے سکتا ہے۔



ان جگہوں یا چیزوں پر دائرہ بنائیے جنہیں آپ تصویروں میں دیکھتے ہیں اور ان کے نام لکھیے۔

پریت کی بڑی بہن نے اسکول کا نقشہ بنایا ہے۔ آپ آسانی سے نقشے پر گریڈ 4 تلاش کر سکتے ہیں۔
گریڈ 4 کے کمرہ جماعت سے ایچ تک کا راستہ تلاش کیجیے۔



آپ کتنے راستے تلاش کرنے میں کامیاب رہے؟ _____ (آپ مختلف راستوں کو معلوم کرنے کے لیے مختلف رنگوں کی پینسلیں استعمال کر سکتے ہیں)

سب سے مختصر راستہ کون سا ہے؟ آپ کو کیسے پتہ چلا؟

پانی لانے والا شخص داخلی دروازے سے دائیں طرف مڑا ہے۔ اسے راستہ بتا کر ایم ڈی ایم کچن تک پہنچنے میں مدد کیجیے۔ ذیل میں ہدایات لکھیے۔

رجت کی طبیعت ٹھیک نہیں ہے۔ آپ اسے لائبریری سے میڈیکل روم تک لے جانے کے لیے کس راستے کا انتخاب کریں گے؟

کھیل کے میدان میں اسمبلی کے بعد، بھولو کو آئی ٹی روم میں جانا ہے اور رانی کو اسپورٹس روم میں جانا ہے۔

ان کے راستوں کو معلوم کیجیے۔ کون سا راستہ لمبا ہے؟

آئیے کریں (پروجیکٹ کا کام) 

اپنے اسکول کے داخلی دروازے سے اپنے کمرہ جماعت اور کسی بھی دیگر اہم مقام تک راستہ دکھانے کے لیے ایک نقشہ بنائیے۔

© NCERT
not to be republished