



0333CH03



ଆମ ସଂଖ୍ୟାର କାହାଣୀ

ହଜାର ହଜାର ବର୍ଷ ପୂର୍ବେ ଲୋକେ ଗଣନା କରିବା ଆରମ୍ଭ କରିଥିଲେ। ସେମାନେ ନିଜ ଜିନିଷର ହିସାବ ରଖିବାକୁ ଚାହୁଁଥିଲେ। ତେଣୁ ସେମାନେ ଗୁମ୍ଫାର କାନ୍ଥ ଓ ଗଛର ଛାଲରେ ଚିହ୍ନ ବନାଉଥିଲେ।

ସମୟକ୍ରମେ ସେମାନେ ୫, ୧୦, ୨୦ ଓ ୨୦ ଜଣିଆ ଦଳ ତିଆରି କରି ନିଜ ଜିନିଷର ହିସାବ ରଖିଲେ।

ହଜାର ହଜାର ବର୍ଷ ପୂର୍ବେ ପ୍ରାଚୀନ ଭାରତୀୟମାନେ ମାତ୍ର ୧୦ଟି ସଂକେତ ଯଥା - ୦, ୧, ୨, ୩, ୪, ୫, ୬, ୭, ୮, ୯ ର ବ୍ୟବହାର କରି ଯେ କୌଣସି ସଂଖ୍ୟା ଲେଖିବା ପାଇଁ ଏକ ପଦ୍ଧତି ତିଆରି କରିଥିଲେ । ଏହା ମାନବ ଇତିହାସର ସବୁଠାରୁ ଚମତ୍କାର ଏବଂ ସୃଜନଶୀଳ ଆବିଷ୍କାର ମଧ୍ୟରୁ ଗୋଟିଏ । ଏହା ଦ୍ଵାରା ଚିଞ୍ଚି, କମ୍ପ୍ୟୁଟର, ମୋବାଇଲ ଫୋନ୍ ଆଦିର ଆବିଷ୍କାର ସମ୍ଭବ ହୋଇପାରିଛି । ସଂଖ୍ୟା ଲେଖିବାର ଏହି ପଦ୍ଧତି ବର୍ତ୍ତମାନ ବିଶ୍ଵର ପ୍ରତ୍ୟେକ ଦେଶରେ ସବୁଠି ବ୍ୟବହୃତ ହେଉଛି ।

ଏହି ଆବିଷ୍କାରର ଏକ ଗୁରୁତ୍ଵପୂର୍ଣ୍ଣ ଅଂଶ ଥିଲା "0" ସଂକେତର ପରିଚୟ ଏବଂ ବ୍ୟବହାର ଯାହାର ଅର୍ଥ "କିଛି ନୁହେଁ"। "0" ହିଁ ପ୍ରକୃତରେ ସଂଖ୍ୟା ଲେଖିବାର ଏହି ପ୍ରଣାଳୀକୁ କାର୍ଯ୍ୟକ୍ଷମ କରିଛି !

ଆଗାମୀ କିଛି ମାସ ମଧ୍ୟରେ, ଆମେ କେବଳ ଏହି ଦଶଟି ଚିହ୍ନ ବ୍ୟବହାର କରି ସମସ୍ତ ସଂଖ୍ୟା ଲେଖିବା ଓ ଶିଖିବା, ସଂଖ୍ୟାଟି ଯେତେ ବଡ଼ ହେଉ ନା କାହିଁକି ।



ଆସ କରିବା

୧. ଛବିଟିକୁ ଦେଖ । ନିମ୍ନଲିଖିତ ପ୍ରତ୍ୟେକ ବସ୍ତୁର ସଂଖ୍ୟା ଗଣନା କର ଏବଂ ଲେଖ ।


- କ. କମଳା :
- ଖ. ବୁଡ଼ି :
- ଗ. ଲଞ୍ଜୁ :
- ଘ. ବର୍ଫି :
- ଙ. ଚିକିଲି :
- ଚ. କଦଳୀ :





ଆସ ଖେଳିବା

ପାଲିରେ ନଥିବା ସଂଖ୍ୟା ଲେଖ ।



ସାପ ଏବଂ ସିଦ୍ଧି ପାଲି ଆଧାରରେ ନିମ୍ନଲିଖିତ ପ୍ରଶ୍ନର ଉତ୍ତର ଦିଅ:

୧. ଯଦି ତୁମେ ୧୩ରୁ ସିଦ୍ଧି ନେବ ତେବେ ତମେ କେଉଁ ସଂଖ୍ୟାରେ ପହଞ୍ଚିବ ?
୨. ଯଦି ତୁମେ ୨୫ ର ସାପ ଉପରେ ଅଛ, ତେବେ ତୁମେ କେଉଁ ସଂଖ୍ୟାରେ ପହଞ୍ଚିବ ?
୩. ତୁମେ ୯୬ ରେ ଠିଆ ହୋଇଛ ତେବେ ଗୋଟିର କେଉଁ ସଂଖ୍ୟା ତୁମକୁ ସାପର ପାଟିକୁ ନେଇଯିବ ?
୪. ବିଡ଼ା ଏବଂ ଏକକ କାଠିର ବ୍ୟବହାର କରି ଦୀର୍ଘତମ ସାପର ଲାଞ୍ଜରେ ଲେଖାଯାଇଥିବା ସଂଖ୍ୟା ଦେଖାଆ ।



ଆସ ଚିନ୍ତା କରିବା



ମୁଁ ଜଣେ କଥାକୁହା ପାତ୍ର ।
ମୋତେ ଯେକୌଣସି ସଂଖ୍ୟା କୁହ ଏବଂ ମୁଁ
ତୁମକୁ ପରବର୍ତ୍ତୀ ସଂଖ୍ୟା କହିବି ।

ମୁଁ କହିଲି ୪୨, ପାତ୍ର
କହିଲା ୪୩



ମୁଁ କହିଲି ୩୯,
ପାତ୍ର କହିଲା

ମୁଁ କହିଲି ୬୩, ପାତ୍ର
କହିଲା

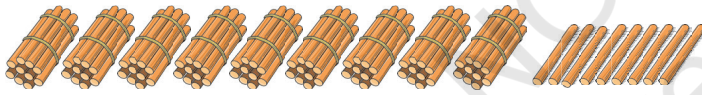
ମୁଁ କହିଥିଲି, ପାତ୍ର
କହିଲା ୯୦





ମୁଁ କହିଥିଲିପାତ୍ର
କହିଲା.....

ମୁଁ କହିଥିଲି ୯୯ ପାତ୍ର
କହିଲା ୧୦୦

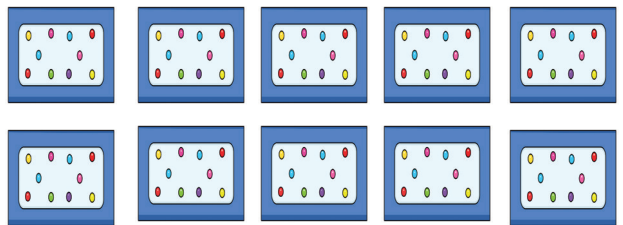
୧୦୦?
କ'ଣ



ଏବଂ ଆଉ ଗୋଟିଏ  ହେଲେ ୧୦୦ ହେବ ।
ଏକ ଅଧିକ ହେଲେ ୯୯ ୧୦୦ ହେବ ।



୧୦ଟି ଲେଖାଏଁ କାଠିର ୧୦ଟି ବିଡ଼ାରେ ୧୦୦ଟି
କାଠି ରହିଛି



ଓହ, ସେ ଶତକ ହାସଲ କରିଥିଲେ । ଏହା
ହେଉଛି ୧୦୦ ରନ୍

୧୦ଟି ଚିକିଲି ଥିବା ୧୦ ଟି ପ୍ୟାକେଟ୍ ମିଳିତ ଭାବେ
୧୦୦ ହୁଅନ୍ତି ।



ଶିକ୍ଷକଙ୍କ ଉଦ୍ଦେଶ୍ୟରେ : ପିଲାମାନଙ୍କୁ ବିଡ଼ା ଏବଂ ଖୋଲା କାଠି ଆକାରରେ ଦିଆଯିଲି କାଠି ଦେଇ ଏହା ସାହାଯ୍ୟରେ ସଂଖ୍ୟା ଦର୍ଶାଇବାକୁ ଉପାଦେୟ କରନ୍ତୁ ।



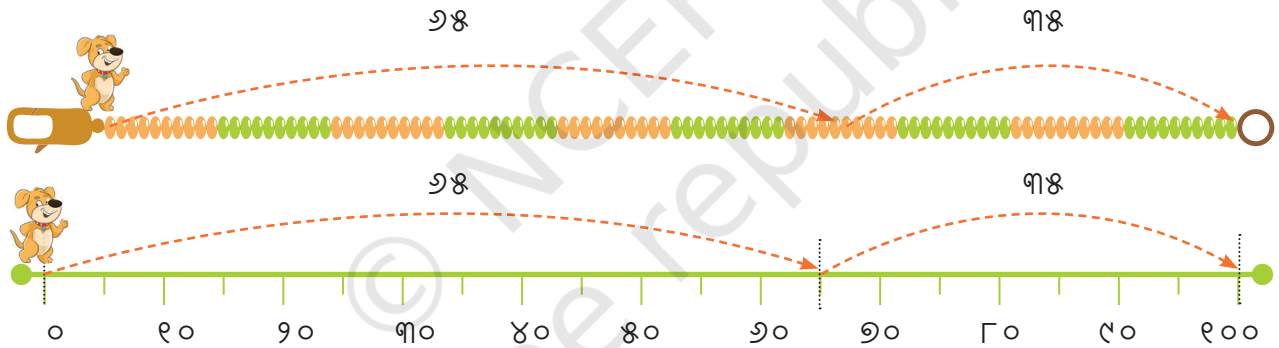
ଆସ କରିବା

ଏହି ମଣି ସଂଖ୍ୟାରେ ୧୦୦।

୧. ଶୂନ୍ୟ ସ୍ଥାନଗୁଡ଼ିକ ପୂରଣ କର।

୧୦୦ଟି ତିଆରି କର	ବାକ୍ୟରେ ସଂଖ୍ୟା
	୭୦ ଏବଂ ୩୦ ମିଶି ୧୦୦ ହୁଅନ୍ତି
	___ ଏବଂ ___ ମିଶି ୧୦୦ ହୁଅନ୍ତି
	___ ଏବଂ ___ ମିଶି ୧୦୦ ହୁଅନ୍ତି

ତେଣୁ ୨୫ ରେ ପହଞ୍ଚି ଅଧିକ ୩୫ ଡେଇଁ ୧୦୦ ପୂରଣ କଲା ।



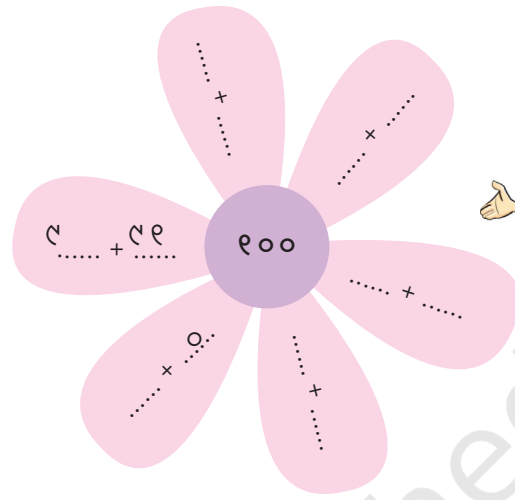
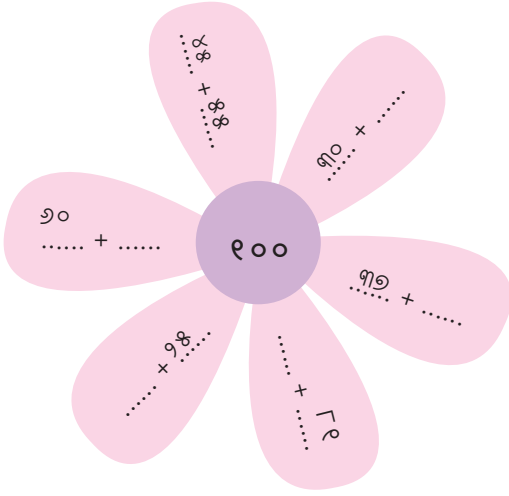
ଏହି ସଂଖ୍ୟା ରେଖାରେ ଭିନ୍ନ ଭିନ୍ନ ସ୍ଥାନରେ ଡେଇଁ ୧୦୦ ତିଆରି କର ।



୨. ଦିଆଯିଲି କାଠିର ବିଡ଼ା କିମ୍ବା ଏକ ଗଣନା ସିଲଟ ବ୍ୟବହାର କରି ବିଭିନ୍ନ ଉପାୟରେ ୧୦୦ ପ୍ରସ୍ତୁତ କର। ନିମ୍ନରେ ଥିବା ସାରଣୀ ପୂରଣ କର ।

୨୦ ଓ ୪୦ ମିଶି ହୁଏ	୪୫ ଏବଂ ମିଶି ୧୦୦ ହୁଏ ।
..... ଏବଂ ୨୫ ମିଶି ୧୦୦ ହୁଏ । ଏବଂ ୮୫ ମିଶି ୧୦୦ ହୁଏ ।
..... ଏବଂ ମିଶି ୧୦୦ ହୁଏ । ଏବଂ ମିଶି ୧୦୦ ହୁଏ ।

୩. ଫୁଲ ପାଖୁଡ଼ା ଭିତରେ ଥିବା ଖାଲି ସ୍ଥାନରେ ସଂଖ୍ୟା ଲେଖ ଯାହାଦ୍ୱାରା ପ୍ରତ୍ୟେକ ପାଖୁଡ଼ିରେ ଥିବା ସଂଖ୍ୟା ମିଳିତ ରୂପେ ୧୦୦ କୁ ବୃଦ୍ଧି ପାଇବ ।



ଆସ ଖୋଜିବା

କେତୋଟି ୧୦୦ ଅଛି ?

୧. ଦିଆଯିଲି କାଠିର ଏକ ପୁରା ବକ୍ସ ଖୋଲ ।

- ବକ୍ସରେ ଦିଆଯିଲି କାଠିର ସଂଖ୍ୟା ଅନୁମାନ କର:
- ବକ୍ସରେ ଦିଆଯିଲି କାଠିର ସଂଖ୍ୟା ଗଣନା କର:
- ତୁମ ଅନୁମାନ କେତେ ନିକଟତର ଥିଲା ?
- କେତୋଟି ବକ୍ସରେ ମୋଟ ୧୦୦ଟି ଦିଆଯିଲି କାଠି ରହି ପାରିବ ? ବକ୍ସ ।



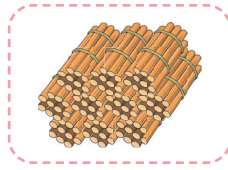
୨. ରାଜମା, ଚଣା ଭଳି ମୁଠାଏ ମଞ୍ଜି ନିଅନ୍ତୁ ।

- ତୁମ ହାତରେ କେତେ ମଞ୍ଜି ଅଛି ତାହା ଆକଳନ କର:
- ତୁମ ହାତର ମଞ୍ଜି ସଂଖ୍ୟା ଗଣନା କର:
- କେତେ ମୁଠା ମଞ୍ଜି ହେଲେ ତୁମେ ସମୁଦାୟ ୧୦୦ ଟି ମଞ୍ଜି ପାଇବ ? ମୁଠା ।





ଏଗୁଡ଼ିକ କ'ଣ
୧୦୦?



ହଁ, ୧୦ ଟି ବାଡ଼ିର ୧୦
ବିଡ଼ା ଅର୍ଥାତ୍ ସମୁଦାୟ ୧୦୦ର
ଗୋଟିଏ ବିଡ଼ା ।



ସାରଣୀକୁ ନିରୀକ୍ଷଣ କର ଏବଂ ୧୦୦ରୁ ଅଧିକ ସଂଖ୍ୟା ଲେଖିବା ଶିଖ । ଖାଲି ସ୍ଥାନ ପୂରଣ କର ।

	୧୦୦ ଏବଂ ୧ ମିଶି ଶହେ ଏକ ହୁଏ	୧୦୧
	୧୦୦ ଓ ୨ ମିଶି ଶହେ ଦୁଇ ହୁଏ	୧୦୨
	୧୦୦ ଓ ୩ ମିଶି ଶହେ ହୁଏ	୧୦୩
	୧୦୦ ଏବଂ ୪ ମିଶି ଶହେ ହୁଏ	୧୦୪
	୧୦୦ ଓ ୫ ମିଶି ଶହେ ପାଞ୍ଚ ହୁଏ
	୧୦୦ ଏବଂ ୬ ମିଶି ଶହେ ହୁଏ	୧୦୬
	୧୦୦ ଏବଂ ୭ ମିଶି ଶହେ ସାତ ହୁଏ
	୧୦୦ ଏବଂ ୮ ମିଶି ଶହେ ହୁଏ	୧୦୮
	୧୦୦ ଏବଂ ୯ ମିଶି ଶହେ ହୁଏ
	୧୦୦ ଏବଂ ୧୦ ମିଶି ଶହେ ଦଶ ହୁଏ	୧୧୦

ପୃଷ୍ଠାର ଧାରରେ ଦିଆଯାଇଥିବା ସଂଖ୍ୟା ରେଖାରେ ଖାଲି ସ୍ଥାନଗୁଡ଼ିକ ପୂରଣ କର ।

୧୦୦ ୧୦୨ ୧୦୪ ୧୦୫ ୧୦୮ ୧୧୦

୧୨୪

୧୨୦

୧୧୭

୧୧୪

୧୧୨

୧୧୧



ଆସ କରିବା

୧. ଆସ ଦିଆସିଲି କାଠିର ବିଡ଼ା ଏବଂ ଏକକ କାଠି ବ୍ୟବହାର କରି ୧୦୦ରୁ ଅଧିକ ସଂଖ୍ୟା ତିଆରି କରିବା ଅବ୍ୟାହତ ରଖା।

ନିମ୍ନରେ ଦିଆଯାଇଥିବା ସାରଣୀରେ, ବିଡ଼ା ଏବଂ ଏକକ କାଠି ଚିହ୍ନଟ କର ଏବଂ ସମ୍ପୂର୍ଣ୍ଣ ସଂଖ୍ୟା ଗୁଡ଼ିକ ଲେଖା ।

ବିଡ଼ା ଏବଂ ଏକକ କାଠି	ଦିଆସିଲି କାଠିର ବିଡ଼ା			ସଂଖ୍ୟା
	୧୦୦	୧୦	୧	
	୧	୯	୩	୧୨୩

	୧୦୪

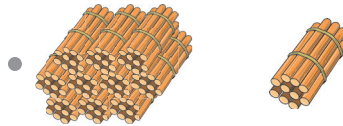
	୧୨୦

ଏହି ସାରଣୀକୁ ତୁମ ଖାତାରେ ୧୫୦ ପର୍ଯ୍ୟନ୍ତ ବଢ଼ାଅ । ତୁମେ ସବୁ ସଂଖ୍ୟାଗୁଡ଼ିକରେ କିଛି ସାମାନ୍ୟତା ଦେଖୁଛ କି?

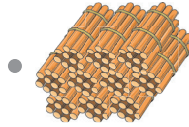


ସଠିକ୍ ବିଡ଼ା ଏବଂ ଏକକ କାଠିର ସଂଖ୍ୟାଗୁଡ଼ିକୁ ମିଳାଅ ।

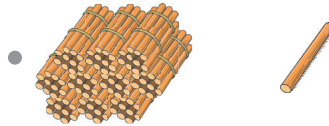
୧୦୧



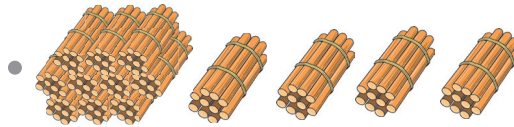
୧୧୬



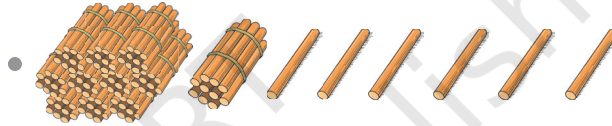
୧୧୦



୧୦୦



୧୪୦



ଓହଃ ! କଥାକୁହା ପାତ୍ର ଫେରିଆସିଛି । ଯାହା ତୁମେ କହୁଛ ଏହା ତା'ଠାରୁ ଗୋଟିଏ ଅଧିକ କହିବ ।



ଭୋଲୁ କହିଲା



ପାତ୍ର କହିଲା

୧୨୭
୧୦୯
୧୩୪

୧୨୮
.....
.....



ଭୋଲୁ କହିଲା



ପାତ୍ର କହିଲା

୧୦୫
.....
୧୦୦

.....
୧୫୦
.....

ସଂଖ୍ୟା ରେଖାର ଖାଲି ସ୍ଥାନ ପୂରଣ କର ।



ନିମ୍ନରେ ଥିବା ସଂଖ୍ୟା ରେଖାରେ ନିମ୍ନଲିଖିତ ସଂଖ୍ୟାଗୁଡ଼ିକୁ ଚିହ୍ନାଇଦିଅ ।

୧. ୧୨୫ ରେ ତାର ଚିହ୍ନ ରଖ ।

୩. ୧୪୯ ରେ ଏକ ସ୍ଥାନ ଚିହ୍ନି ତିଆରି କର ।

୨. ୧୧୨ ରେ ଏକ ଗଛ ଚିହ୍ନି ତିଆରି କର ।

୪. ୧୩୭ରେ ଏକ ଛକି  କର ।





ଆସ ଖେଳିବା



ଗୋଟିଏ ତାଳି ୧୦୦ କୁ ପ୍ରତିନିଧିତ୍ୱ କରେ ଗୋଟିଏ ଚୁଢ଼ି ୧୦ କୁ ପ୍ରତିନିଧିତ୍ୱ କରେ ଗୋଟିଏ ଥପ୍ ଥପ୍ ୧ କୁ ପ୍ରତିନିଧିତ୍ୱ କରେ
 ଦୁଇଟି ତାଳି ୨୦୦ କୁ ପ୍ରତିନିଧିତ୍ୱ କରେ ଦୁଇଟି ଚୁଢ଼ି ୨୦ କୁ ପ୍ରତିନିଧିତ୍ୱ କରେ ଦୁଇଟି ଥପ୍ ଥପ୍ ୨ କୁ ପ୍ରତିନିଧିତ୍ୱ କରେ

ମୁଁ ତାଳି, ଚୁଢ଼ି ଏବଂ ଥପ୍ ଥପ୍ କରି ସଂଖ୍ୟା ସୃଷ୍ଟି କରିପାରିବି।
 ମୁଁ ସଂଖ୍ୟା ତିଆରି କରୁଛି ତୁମେ ଅନୁମାନ କର ।



ଏହି ବାଜିକୁ ଦୁଇଟି ଦଳ ମଧ୍ୟରେ ଖେଳ । ଗୋଟିଏ ଦଳ ତାଳି, ଚୁଢ଼ି ଏବଂ ଥପ୍ ଥପ୍ କୁ ବ୍ୟବହାର କରି ଏକ ସଂଖ୍ୟାର ସୂଚନା ଦେବେ ଏବଂ ଅନ୍ୟ ଦଳ ଏହାକୁ ଅନୁମାନ କରିବେ ।
 ଉଦାହରଣ: ତାଳି - ଚୁଢ଼ି ଚୁଢ଼ି - ଥପ୍ ଥପ୍ ଥପ୍ ର ଅର୍ଥ ୧୨୩ (ଶହେ ତେଇଶ)

ଏବେ ଆସ ୧୫୦ ରୁ ଅଧିକ ଗଣନା କରିବା ।


ସଚିତ୍ର ରୂପ	ଦିଆଯିଲି କାଠିର ବିଢ଼ା			ବାକ୍ୟରେ ସଂଖ୍ୟା	ସଂଖ୍ୟାର ନାମ
	୧୦୦	୧୦ର	୧ର		
	୧	୫	୦	୧୫୦	ଶହେ ପଚାଶ
	୧	୫	୫	୧୦୦ ଏବଂ ୫୫	ଶହେ ଏକାବନ
	୧୦୦ ଏବଂ ୫୨	ଶହେ ବାଉନ
	୧	୩	୧୦୦ ଏବଂ	ଶହେ ତେପନ
	୧	୫	୧୦୦ ଏବଂ	ଶହେ ଚୌବନ
	୧	୫	୧୦୦ ଏବଂ ୫୫	ଶହେ ପଞ୍ଚାବନ
	୧	୬ ଏବଂ ୫୬	ଶହେ ଛପନ
	୫	୬	୧୦୦ ଏବଂ	ଶହେ ଶତାବନ
 ଏବଂ	ଶହେ ଅଠାବନ
 ଏବଂ	ଶହେ ଅଶଷ୍ଠି

ଏହି ସାରଣୀକୁ ତୁମ ଖାତାରେ ୨୦୦ ପର୍ଯ୍ୟନ୍ତ ବଢ଼ାଇ ଲଖ । ୨୦୦ କେତେ ?



ଆସ ଘରେ କରିବା

ଗିନା ପରି ଏକ ଛୋଟ ପାତ୍ରରେ ରାଜମା କାବୁଲି ଚଣା ପରି ମଞ୍ଜି ଭରି ଦିଅ ।



ପାତ୍ରକୁ ଭଲ ଭାବରେ ଦେଖ ଏବଂ ଏଥିରେ କେତେ ମଞ୍ଜି ଅଛି ତାହା ଅନୁମାନ କର। ତୁମ ଅନୁମାନ ମଞ୍ଜି ସଂଖ୍ୟା ମଞ୍ଜି ।

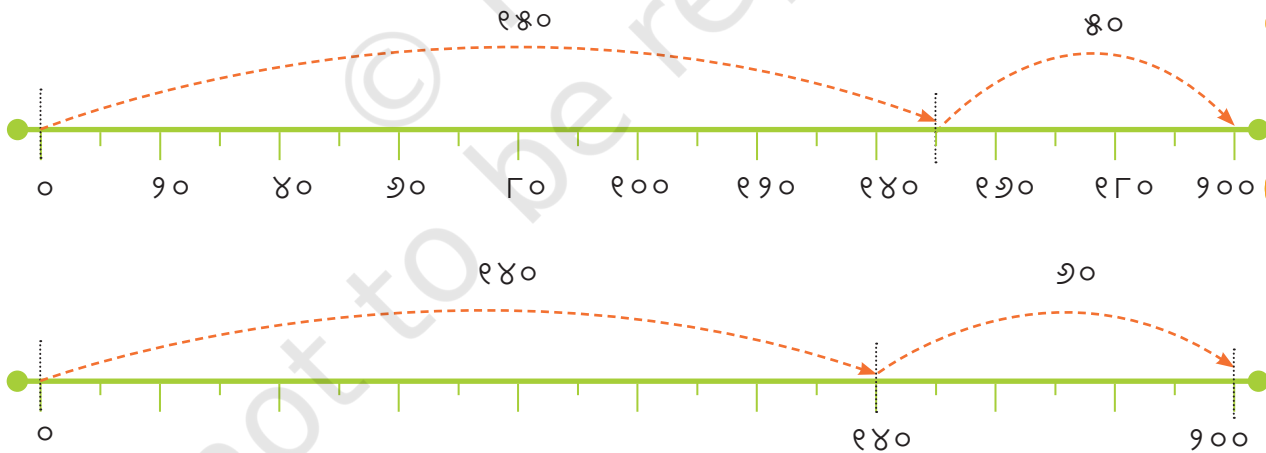
ବର୍ତ୍ତମାନ ଗଣନା କର ଏବଂ ଦେଖ ତୁମ ଅନୁମାନ ପ୍ରକୃତ ମଞ୍ଜି ସଂଖ୍ୟାର କେତେ ନିକଟତର ଅଟେ । ଗଣନା କରଯାଇଥିବା ମଞ୍ଜି ସଂଖ୍ୟା ।



ଅନୁମାନ କର ଯେ ପାଖାପାଖି ୨୦୦ ମଞ୍ଜି ପାଇବା ପାଇଁ ତୁମକୁ କେତେ ଥର ପାତ୍ର ଭରିବାକୁ ପଡ଼ିବ? ତୁମର ଅନୁମାନ: ।



ମୁଁ ସଂଖ୍ୟା ରେଖାରେ ମଧ୍ୟ
୨୦୦ ଦେଖାଇପାରିବି ।
 $୧୫୦ + ୫୦ = ୨୦୦$
 $୧୪୦ + ୬୦ = ୨୦୦$



ପଥର ଉପରେ କ୍ରମବଦ୍ଧ ଭାବରେ ସଂଖ୍ୟା ଲେଖ ।





ଆସ କରିବା

ତିଆଁ ଖେଳ

୧. ସଂଖ୍ୟା ରେଖାରେ ୫ର ତିଆଁ ଅଙ୍କନ କର ଏବଂ ସଂଖ୍ୟା ରେଖାରେ ରହିଥିବା ଶୂନ୍ୟ ସ୍ଥାନଗୁଡ଼ିକରେ ସଂଖ୍ୟା ଲେଖ ।



୨. ୨୦ ର ବୃଦ୍ଧି ଅବ୍ୟାହତ ରଖ ଏବଂ ସଂଖ୍ୟା ରେଖାରେ ନଥିବା ସଂଖ୍ୟାଗୁଡ଼ିକ ଲେଖ ।



୩. ସାରଣୀ ପୂରଣ କର।

୧ କମ୍	ସଂଖ୍ୟା	୧ ଅଧିକ
	୧୬୦	
	୧୨୯	
	୧୮୭	
	୧୩୪	
	୧୫୮	



୪. ନିମ୍ନଲିଖିତ ସଂଖ୍ୟା ଗୁଡ଼ିକ ତିଆରି କରିବାର ଅତି କମରେ ଦୁଇଟି ଭିନ୍ନ ଉପାୟ ଦେଖାଆ।

କ. ୧୨୫ ତିଆରି କରିବାକୁ ଦିଆଯିଲି କାଠିର ବ୍ୟବହାର କର।

ଖ. ଏକ ଗଣନା ସିଲଟ ବ୍ୟବହାର କରି ୧୪୫ ତିଆରି କର ।

ଗ. ଏକ ସଂଖ୍ୟା ରେଖାରେ ୧୭୦ ତିଆରି କର ।


୫. ଖାଲି ବାକ୍ସଗୁଡ଼ିକୁ ଉପଯୁକ୍ତ ଭାବରେ ପୂରଣ କର ।

ସଂଖ୍ୟା	ସଚିତ୍ର ରୂପ	ଦିଆଯିଲି କାଠିର ବିଢ଼ା			ବାକ୍ୟରେ ସଂଖ୍ୟା
		୧୦୦	୧୦ର	୧ର	
୧୧୪					୧୦୦ ଏବଂ ୧୪ ଅଧିକ
					୧୦୦ ଓ ୩୨ ଅଧିକ
୧୭୨					
୧୦୮					
					୧୫୦ରୁ ଅଧିକ ୩୦
		୧	୭	୦	



୬. ସଂଖ୍ୟା ରେଖାରେ ନିମ୍ନଲିଖିତ ସଂଖ୍ୟାଗୁଡ଼ିକ ଚିହ୍ନିତ କର ।

କ. ୧୦୯, ୧୧୨, ୧୨୪, ୧୩୪, ୧୪୬



ଖ. ୧୫୫, ୧୬୩, ୧୭୮, ୧୮୯, ୧୯୮



ଗ. ୧୨୫, ୧୪୨, ୧୫୩, ୧୬୪, ୧୯୯

